

Cálculo C2 - 2023.1

Aulas 15, 16 e 18: Somas de Riemann

Eduardo Ochs - RCN/PURO/UFF

<http://anggtwu.net/2023.1-C2.html>

Links

Leithold:

[Leit5p35](#) (p.318) Figura 3

[Leit5p36](#) (p.319) Figura 4

[Leit5p41](#) (p.324) 5.5. A integral definida

Miranda:

[Miranda207](#) 7.1 Áreas e somas de Riemann

[Miranda212](#) 7.2 Integral definida

[Miranda217](#) 7.3. Definição 3: Soma superior e inferior

Livro de Análise do Ross:

[RossAp16](#) (p.269) The Riemann Integral

Vou (re)usar muito material destes PDFzinhos:

[2fT60](#) 2022.2, aulas 13, 14 e 16: Somas de Riemann

[2fT89](#) 2022.2, aula 19, 14 e 16: o TFC1 e o TFC2

[2eT39](#) 2022.1, aula 15: infs e sups

Algumas figuras importantes:

[2eT95](#) A integral como limite

[2fT91](#) Algumas definições: partição, inf e sup, integral

Montanhas

Seja $f(x)$ a função da próxima página – “as montanhas”.
Você vai receber (pelo menos) uma cópia dessa página.
Faça cada item abaixo em um dos 12 gráficos da $f(x)$.

Represente graficamente cada um dos somatórios abaixo.
Se você tiver dificuldade com algum desses somatórios
comece expandindo ele em dois passos, como na página 7.

a) $\sum_{i=1}^8 f(x_i)(x_i - x_{i-1})$

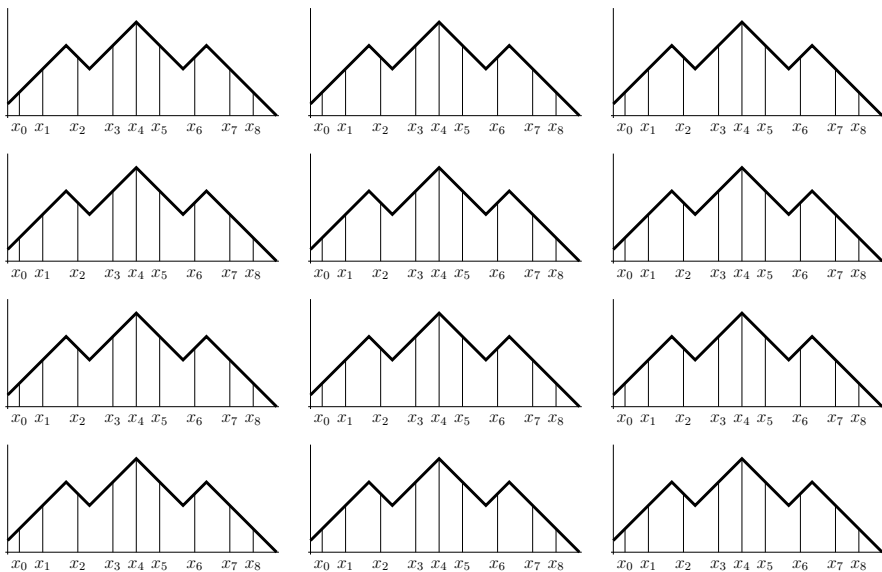
b) $\sum_{i=1}^8 f(x_{i-1})(x_i - x_{i-1})$

c) $\sum_{i=1}^8 \max(f(x_{i-1}), f(x_i))(x_i - x_{i-1})$

d) $\sum_{i=1}^8 \min(f(x_{i-1}), f(x_i))(x_i - x_{i-1})$

e) $\sum_{i=1}^8 f\left(\frac{x_{i-1}+x_i}{2}\right)(x_i - x_{i-1})$

f) $\sum_{i=1}^8 \frac{f(x_{i-1})+f(x_i)}{2}(x_i - x_{i-1})$



Miranda: somas inferiores e superiores

Nas páginas 217 e 218 o Miranda define as notações $I(f, P)$ e $S(f, P)$, e lá no meio dessas definições ele define

$$\min_{x \in I} f(x) \quad \text{e} \quad \max_{x \in I} f(x)$$

usando o truque do “vire-se”: ele mostra uma figura e o leitor tem que se virar pra entender o que essas notações querem dizer... veja: [Miranda217](#) (Definição 3)

Mais itens pra fazer na figura das montanhas

a) Entenda o que essas notações do Miranda querem dizer e verifique que na figura das montanhas temos:

$$\begin{aligned} \max(f(x_1), f(x_2)) &\leq \max_{x \in [x_1, x_2]} f(x) \\ \min_{x \in [x_2, x_3]} f(x) &\leq \min(f(x_2), f(x_3)) \end{aligned}$$

e depois represente nas montanhas:

- b) $\sum_{i=1}^8 (\max_{x \in [x_{i-1}, x_i]} f(x))(x_i - x_{i-1})$
 c) $\sum_{i=1}^8 (\min_{x \in [x_{i-1}, x_i]} f(x))(x_i - x_{i-1})$

Aviso

As próximas páginas têm definições precisas de: partição, inf e sup, [inf] e [sup], integral definida, e um monte de definições intermediárias que a gente vai precisar pra entender as definições mais importantes...

O objetivo desta parte do curso é fazer vocês aprenderem um monte de truques pra entenderem definições complicadas “visualizando o que elas querem dizer”. Estes truques vão ser uma das partes do curso que vão ser mais úteis pras matérias seguintes, mas esses assuntos vão valer bem poucos pontos na prova.

Partições, informalmente

Informalmente uma partição de um intervalo $[a, b]$ é um modo de decompor $[a, b]$ em intervalos menores consecutivos. Por exemplo,

$$[2, 7] = [2, 3.5] \cup [3.5, 4] \cup [4, 6] \cup [6, 7]$$

A definição “certa” é mais complicada... vamos vê-la daqui a pouco. O Caso geral da igualdade acima é:

$$[a, b] = [a_1, b_1] \cup [a_2, b_2] \cup \dots \cup [a_N, b_N],$$

onde:

N é o número de intervalos,

$a = a_1, b = b_N$, (“extremidades”)

$a_i < b_i$ para todo i em que isto faz sentido ($i = 1, \dots, N$)

$b_i = a_{i+1}$ para todo i e.q.i.f.s.; neste caso, $i = 1, \dots, N - 1$

Um jeito prático de definir uma partição é usando uma tabela.

Por exemplo, esta tabela

i	a_i	b_i	I_i
1	2	3.5	$[2, 3.5]$
2	3.5	4	$[3.5, 4]$
3	4	6	$[4, 6]$
4	6	7	$[6, 7]$

corresponde à partição de $[2, 7]$ do início deste slide.

Veja: [Miranda212](#), [Leit5p41](#) (p.324, seção 5.5).

Uma definição um pouco melhor de partição é a seguinte. Digamos que P seja um subconjunto não-vazio e finito de \mathbb{R} , e que o menor elemento de P seja a e o maior seja b .

Então P é uma partição do intervalo $[a, b]$.

Exemplo: a partição $P = \{2, 3.5, 4, 6, 7\}$ corresponde a:

$$[2, 7] = [2, 3.5] \cup [3.5, 4] \cup [4, 6] \cup [6, 7]$$

Pra fazer a tradução da “versão conjunto” pra “versão tabela” ponha os elementos de P em ordem e chame-os de b_0, \dots, b_N ; defina cada a_i como sendo b_{i-1} – por exemplo, $a_1 = b_0$ – e encontre a, b , e N . Depois que você tem a “versão tabela” é bem fácil obter a “versão união de intervalos”.

Quando dizemos algo como “Seja P a partição $\{2.5, 4, 6\}$ ” estamos criando um contexto no qual há uma partição “default” definida... e neste contexto vamos ter valores definidos para N, a, b , e para cada a_i e b_i . Por exemplo...

Seja P a partição $\{2.5, 4, 6\}$. Então

$$\begin{aligned} \sum_{i=1}^N f(b_i) \cdot (b_i - a_i) &= \sum_{i=1}^2 f(b_i) \cdot (b_i - a_i) \\ &= f(b_1) \cdot (b_1 - a_1) \\ &+ f(b_2) \cdot (b_2 - a_2) \\ &= f(4) \cdot (4 - 2.5) \\ &+ f(6) \cdot (6 - 4) \end{aligned}$$

A definição de partição

Se P é um subconjunto **finito** e **não-vazio** de \mathbb{R} , então podemos interpretar P como uma partição...

Por exemplo, se $P = \{20, 20, 42, 99, 63, 33, 20, 20\}$ então $P = \{20, 33, 42, 63, 99, 200\}$, e aí vamos interpretar esse conjunto de 6 pontos – ordenados em ordem crescente – como uma partição do intervalo $I = [a, b] = [20, 200]$ em 5 subintervalos (“ $N = 5$ ”), assim:

20	33	42	63	99	200	
x_0	x_1	x_2	x_3	x_4	x_5	
a_1	b_1					$I_1 = [a_1, b_1]$
	a_2	b_2				$I_2 = [a_2, b_2]$
		a_3	b_3			$I_3 = [a_3, b_3]$
			a_4	b_4		$I_4 = [a_4, b_4]$
				a_5	b_5	$I_5 = [a_5, b_5]$
a					b	$I = [a, b] = [x_0, x_N]$

As definições de inf e sup

Digamos que $f : \mathbb{R} \rightarrow \mathbb{R}$ e $B \subset \mathbb{R}$.

Vamos definir $\inf(f(B))$ e $\sup(f(B))$ —
e também $\inf(D)$ e $\sup(D)$, pra $D \subset \mathbb{R}$ —
desta forma:

$$\overline{\mathbb{R}} = \mathbb{R} \cup \{-\infty, +\infty\}$$

$$C = \{(x, f(x)) \mid x \in B\}$$

$$D = \{f(x) \mid x \in B\}$$

$$D' = \{y \in \mathbb{R} \mid \exists x \in B. f(x) = y\}$$

$$L = \{y \in \overline{\mathbb{R}} \mid \forall d \in D. y \leq d\}$$

$$U = \{y \in \overline{\mathbb{R}} \mid \forall d \in D. d \leq y\}$$

$$(\alpha = \inf(D)) = \alpha \in L \wedge (\forall \ell \in L. \ell \leq \alpha)$$

$$(\beta = \sup(D)) = \beta \in U \wedge (\forall u \in U. \beta \leq u)$$

Algumas somas de Riemann

Vou definir:

$$\begin{aligned}
 [L] &= \sum_{i=1}^N f(a_i)(b_i - a_i) \\
 [R] &= \sum_{i=1}^N f(b_i)(b_i - a_i) \\
 [\text{Trap}] &= \sum_{i=1}^N \frac{f(a_i)+f(b_i)}{2}(b_i - a_i) \\
 [M] &= \sum_{i=1}^N f\left(\frac{a_i+b_i}{2}\right)(b_i - a_i) \\
 [\min] &= \sum_{i=1}^N \min(f(a_i), f(b_i))(b_i - a_i) \\
 [\max] &= \sum_{i=1}^N \max(f(a_i), f(b_i))(b_i - a_i) \\
 [\inf] &= \sum_{i=1}^N \inf(f([a_i, b_i]))(b_i - a_i) \\
 [\sup] &= \sum_{i=1}^N \sup(f([a_i, b_i]))(b_i - a_i)
 \end{aligned}$$

Compare com: os exercícios das montanhas, as páginas 208–210 do Miranda ([Miranda208](#)), e: https://pt.wikipedia.org/wiki/Soma_de_Riemann

Nas duas últimas linhas o $f([a_i, b_i])$ é a **imagem de um intervalo**. Temos:

$$\begin{aligned}
 f(A) &= \{f(a) \mid a \in A\} \\
 f(\{7, 8, 9\}) &= \{f(a) \mid a \in \{7, 8, 9\}\} \\
 &= \{f(7), f(8), f(9)\}
 \end{aligned}$$

$$\begin{aligned}
[a, b]_N &= \{a + k(\frac{b-a}{N}) \mid k \in \{0, \dots, N\}\} \\
&= \{a + 0(\frac{b-a}{N}), a + 1(\frac{b-a}{N}), \dots, a + N(\frac{b-a}{N})\} \\
&= \{a, a + \frac{b-a}{N}, a + 2\frac{b-a}{N}, a + 3\frac{b-a}{N}, \dots, b\} \\
\overline{\int}_P f(x) dx &= [\sup]_P \\
&= \sum_{i=1}^n \sup(f([a_i, b_i]))(b_i - a_i) \\
\underline{\int}_P f(x) dx &= [\inf]_P \\
&= \sum_{i=1}^n \inf(f([a_i, b_i]))(b_i - a_i) \\
\overline{\int}_{\underline{P}} f(x) dx &= \overline{\int}_P f(x) dx - \underline{\int}_P f(x) dx \\
\overline{\int}_{x=a}^{x=b} f(x) dx &= \lim_{k \rightarrow \infty} \overline{\int}_{[a, b]_{2^k}} f(x) dx \\
\underline{\int}_{x=a}^{x=b} f(x) dx &= \lim_{k \rightarrow \infty} \underline{\int}_{[a, b]_{2^k}} f(x) dx \\
\overline{\int}_{x=a}^{x=b} f(x) dx &= \overline{\int}_{x=a}^{x=b} f(x) dx - \underline{\int}_{x=a}^{x=b} f(x) dx \\
\left(\int_{x=a}^{x=b} f(x) dx \text{ existe} \right) &= \left(\overline{\int}_{x=a}^{x=b} f(x) dx = \underline{\int}_{x=a}^{x=b} f(x) dx \right) \\
&= \left(\overline{\int}_{x=a}^{x=b} f(x) dx = 0 \right) \\
\int_{x=a}^{x=b} f(x) dx &= \overline{\int}_{x=a}^{x=b} f(x) dx \quad (\text{se a integral existir}) \\
&= \underline{\int}_{x=a}^{x=b} f(x) dx \quad (\text{se a integral existir})
\end{aligned}$$

Exercícios sobre partições

a) Converta esta “partição”

$$[4, 12] = [4, 5] \cup [5, 6] \cup [6, 9] \cup [9, 10] \cup [10, 12]$$

para uma tabela. Neste caso quem são a , b e N ?

b) Seja $P = \{2.5, 3, 4, 6, 10\}$.

Converta P para o “formato tabela” e para o “formato união de subintervalos”, que é este aqui:

$$[a, b] = [a_1, b_1] \cup \dots \cup [a_N, b_N].$$

c) Seja $P = \{4, 2, 1, 1.5\}$.

Interprete P como uma partição. Diga quem são o N , o a e o b dela e monte a tabela dos subintervalos dela.

d) Seja $P = [2, 4]_6$.

Diga quem são os pontos da partição P .

e) Seja $P = [2, 5]_{23}$.

Diga quem são os pontos da partição P .

Uma dica sobre simplificação

No Ensino Médio às vezes convencem a gente de que uma fração como $\frac{6}{4}$ **tem** que ser simplificada pra $\frac{3}{2}$, mas se a gente tem que listar uma sequência de números começando em 0 em que cada número novo é o anterior mais $\frac{1}{4}$ eu acho bem melhor escrever essa sequência como

$$0, \frac{1}{4}, \frac{2}{4}, \frac{3}{4}, \frac{4}{4}, \frac{5}{4}, \frac{6}{4}, \dots$$

do que como:

$$0, \frac{1}{4}, \frac{1}{2}, \frac{3}{4}, 1, \frac{5}{4}, \frac{3}{2}, \dots$$

Lembre destes trechos da Dica 7: **2gT4**

“Uma solução bem escrita é fácil de ler e fácil de verificar”, e “Se as outras pessoas acharem que ler a sua solução é um sofrimento, isso é mau sinal; se as outras pessoas acharem que a sua solução está claríssima e que elas devem estudar com você, isso é bom sinal”.

Imagens de intervalos

Se $f : \mathbb{R} \rightarrow \mathbb{R}$ então em princípio a expressão $f(\{7, 8, 9\})$ deveria dar um erro, porque f é uma função que espera receber um número, e $\{7, 8, 9\}$ é um conjunto... mas aí normalmente a gente define que o comportamento da f quando ela recebe um conjunto vai ser este aqui:

$$f(A) = \{f(a) \mid a \in A\}$$

A gente diz que $f(A)$ é a **imagem do conjunto A** .

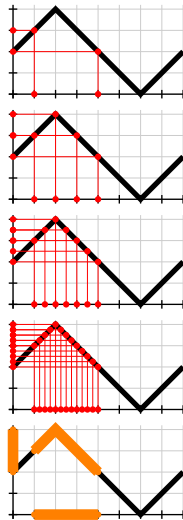
Algumas pessoas – como o Carlos, aqui: 2gT12 – acham que isto é sempre verdade:

$$f([a, b]) = [f(a), f(b)].$$

Não seja como o Carlos!!! Seja como o Bob!!!

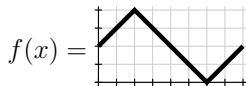
Nas figuras à direita temos:

$$\begin{aligned} f(\{1, 4\}) &= \{f(1), f(4)\} \\ &= \{3, 2\} \\ &= \{2, 3\} \\ f(\{1, 2, 3, 4\}) &= \{f(1), f(2), f(3), f(4)\} \\ &= \{2, 3, 4, 3\} \\ &= \{2, 3, 4\} \\ f([1, 4]) &= [2, 4] \\ [f(1), f(4)] &= [3, 2] \\ &= \{y \in \mathbb{R} \mid 3 \leq y \leq 2\} \\ &= \emptyset \\ &\neq f([1, 4]) \end{aligned}$$



Imagens de intervalos: exercício

Seja $f(x)$ esta função:



Calcule estas imagens de intervalos:

- | | |
|----------------|-----------------|
| a) $f([0, 1])$ | a') $f((0, 1))$ |
| b) $f([1, 2])$ | b') $f((1, 2))$ |
| c) $f([0, 2])$ | c') $f((0, 2))$ |
| d) $f([2, 3])$ | d') $f((2, 3))$ |
| e) $f([1, 3])$ | e') $f((1, 3))$ |
| f) $f([0, 3])$ | f') $f((0, 3))$ |
| g) $f([0, 4])$ | g') $f((0, 4))$ |
| h) $f([4, 8])$ | h') $f((4, 8))$ |
| i) $f([0, 8])$ | i') $f((0, 8))$ |
| j) $f([1, 7])$ | j') $f((1, 7))$ |

Dicas:

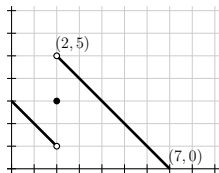
Faça os itens (a) até (j) primeiro. Os itens (a') até (j') são bem mais difíceis, e em alguns deles os resultados vão ser conjuntos fechados ou “semi-abertos”.

O Leithold define intervalos semi-abertos aqui: [Leit1p7](#)

Daqui a pouco nós vamos ver um modo de testar as respostas dos itens desse exercício, e um modo de resolver ele por chutar e testar... mas agunte um pouquinho!

Agora uma função descontínua

Sejam $f(x) =$



e $B = [1, 3]$.

Represente graficamente estes conjuntos —
as definições deles são as mesmas do slide 3:

$$C = \{ (x, f(x)) \mid x \in B \}$$

$$D = \{ f(x) \mid x \in B \}$$

$$D' = \{ y \in \mathbb{R} \mid \exists x \in B. f(x) = y \}$$

$$L = \{ y \in \overline{\mathbb{R}} \mid \forall d \in D. y \leq d \}$$

$$U = \{ y \in \overline{\mathbb{R}} \mid \forall d \in D. d \leq y \}$$

Retângulos acima e abaixo

Lembre que eu contei que em cursos tradicionais de Cálculo 2 – aqueles em que as pessoas passam centenas de horas fazendo contas à mão, e mais outras centenas de horas estudando por aqueles livros que fingem que certas coisas difíceis são óbvias – as pessoas acabam aprendendo algumas coisas super úteis que não aparecem listadas explicitamente no programa do curso...

Uma dessas coisas é aprender a entender definições que *aparentemente* envolvem um número infinito de contas. Se a gente for como o Bob a gente consegue visualizar o que essas definições “querem dizer”.

As definições formais de “retângulo acima (ou abaixo) da curva” e “melhor retângulo acima (ou abaixo) da curva” são assim – elas aparentemente precisam de infinitas contas.

“Para todo” (\forall) e “existe” (\exists)

$$\begin{aligned}
 (\forall a \in \{2, 3, 5\}.a^2 < 10) &= (a^2 < 10)[a := 2] \wedge \\
 &\quad (a^2 < 10)[a := 3] \wedge \\
 &\quad (a^2 < 10)[a := 5] \\
 &= (2^2 < 10) \wedge (3^2 < 10) \wedge (5^2 < 10) \\
 &= (4 < 10) \wedge (9 < 10) \wedge (25 < 10) \\
 &= \mathbf{V} \wedge \mathbf{V} \wedge \mathbf{F} \\
 &= \mathbf{F}
 \end{aligned}$$

$$\begin{aligned}
 (\exists a \in \{2, 3, 5\}.a^2 < 10) &= (a^2 < 10)[a := 2] \vee \\
 &\quad (a^2 < 10)[a := 3] \vee \\
 &\quad (a^2 < 10)[a := 5] \\
 &= (2^2 < 10) \vee (3^2 < 10) \vee (5^2 < 10) \\
 &= (4 < 10) \vee (9 < 10) \vee (25 < 10) \\
 &= \mathbf{V} \vee \mathbf{V} \vee \mathbf{F} \\
 &= \mathbf{V}
 \end{aligned}$$

Visualizando ‘ \forall ’s e ‘ \exists ’s

Repare...

$$\begin{aligned}
 (\forall x \in \{1, \dots, 7\}. 2 \leq x) &= \mathbf{F} \wedge \mathbf{V} \wedge \mathbf{V} \wedge \mathbf{V} \wedge \mathbf{V} \wedge \mathbf{V} \wedge \mathbf{V} \\
 (\forall x \in \{1, \dots, 7\}. x < 4) &= \mathbf{V} \wedge \mathbf{V} \wedge \mathbf{V} \wedge \mathbf{F} \wedge \mathbf{F} \wedge \mathbf{F} \wedge \mathbf{F} \\
 (\forall x \in \{1, \dots, 7\}. 2 \leq x < 4) &= \mathbf{F} \wedge \mathbf{V} \wedge \mathbf{V} \wedge \mathbf{F} \wedge \mathbf{F} \wedge \mathbf{F} \wedge \mathbf{F} \\
 (\forall x \in \{1, \dots, 7\}. x = 6) &= \mathbf{F} \wedge \mathbf{F} \wedge \mathbf{F} \wedge \mathbf{F} \wedge \mathbf{F} \wedge \mathbf{V} \wedge \mathbf{F} \\
 (\forall x \in \{1, \dots, 7\}. 2 \leq x < 4 \vee x = 6) &= \mathbf{F} \wedge \mathbf{V} \wedge \mathbf{V} \wedge \mathbf{F} \wedge \mathbf{F} \wedge \mathbf{V} \wedge \mathbf{F}
 \end{aligned}$$

...que dá pra *visualizar* o que a expressão

$$(\forall x \in \{1, \dots, 7\}. 2 \leq x < 4 \vee x = 6)$$

“quer dizer” visualizando os ‘**V**’s e ‘**F**’s

de expressões mais simples, e combinando

esses “mapas” de ‘**V**’s e ‘**F**’s.

Visualizando ‘ \forall ’s e ‘ \exists ’s (2)

Às vezes vai valer a pena **definir proposições** como nomes mais curtos, como $F(x) = (2 \leq x)$, $G(x) = (x \leq 4)$, $H(x) = (x = 6)$... Aí:

$$\begin{aligned}
 (\forall x \in \{1, \dots, 7\}.F(x)) &= \mathbf{F} \wedge \mathbf{V} \wedge \mathbf{V} \wedge \mathbf{V} \wedge \mathbf{V} \wedge \mathbf{V} \wedge \mathbf{V} \\
 (\forall x \in \{1, \dots, 7\}.G(x)) &= \mathbf{V} \wedge \mathbf{V} \wedge \mathbf{V} \wedge \mathbf{F} \wedge \mathbf{F} \wedge \mathbf{F} \wedge \mathbf{F} \\
 (\forall x \in \{1, \dots, 7\}.F(x) \wedge G(x)) &= \mathbf{F} \wedge \mathbf{V} \wedge \mathbf{V} \wedge \mathbf{F} \wedge \mathbf{F} \wedge \mathbf{F} \wedge \mathbf{F} \\
 (\forall x \in \{1, \dots, 7\}.H(x)) &= \mathbf{F} \wedge \mathbf{F} \wedge \mathbf{F} \wedge \mathbf{F} \wedge \mathbf{F} \wedge \mathbf{V} \wedge \mathbf{F} \\
 (\forall x \in \{1, \dots, 7\}.F(x) \wedge G(x) \vee H(x)) &= \mathbf{F} \wedge \mathbf{V} \wedge \mathbf{V} \wedge \mathbf{F} \wedge \mathbf{F} \wedge \mathbf{V} \wedge \mathbf{F}
 \end{aligned}$$

É isso que a gente vai fazer pra analisar expressões como $(\forall x \in A. ____)$ e $(\exists x \in A. ____)$ e descobrir quais são verdadeiras e quais não — **mesmo quando o conjunto A é um conjunto infinito**, como \mathbb{N} , \mathbb{R} ou $[2, 10]$.

Visualizando ‘ \forall ’s e ‘ \exists ’s (3)

Às vezes vamos ter que fazer figuras com muitos ‘**V**’s e ‘**F**’s, e vai ser mais fácil visualizar onde estão os ‘**V**’s e ‘**F**’s delas se usarmos sinais mais fáceis de distinguir...

Vou usar essa convenção aqui:

O **V** é uma bolinha preta, ou sólida: ●

O **F** é uma bolinha branca, ou oca: ○

$$\begin{aligned}
 (\forall x \in \{1, \dots, 7\}.F(x)) &= \circ \wedge \bullet \wedge \bullet \wedge \bullet \wedge \bullet \wedge \bullet \wedge \bullet \\
 (\forall x \in \{1, \dots, 7\}.G(x)) &= \bullet \wedge \bullet \wedge \bullet \wedge \circ \wedge \circ \wedge \circ \wedge \circ \\
 (\forall x \in \{1, \dots, 7\}.F(x) \wedge G(x)) &= \circ \wedge \bullet \wedge \bullet \wedge \circ \wedge \circ \wedge \circ \wedge \circ \\
 (\forall x \in \{1, \dots, 7\}.H(x)) &= \circ \wedge \circ \wedge \circ \wedge \circ \wedge \circ \wedge \bullet \wedge \circ \\
 (\forall x \in \{1, \dots, 7\}.F(x) \wedge G(x) \vee H(x)) &= \circ \wedge \bullet \wedge \bullet \wedge \circ \wedge \circ \wedge \bullet \wedge \circ
 \end{aligned}$$

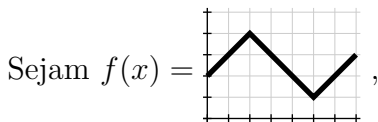
Você **pode** fazer as suas próprias definições —

como o meu “● := **V** e ○ := **F**” acima — mas elas

têm que ficar claras o suficiente... releia a dica 7:

<http://angg.twu.net/LATEX/2021-2-C2-intro.pdf#page=3>

Instruções de desenho (explícitas)



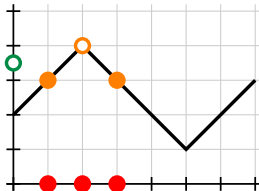
$$e P(y) = \forall x \in \{1, 2, 3\}. f(\underbrace{x}_{\text{em } (x,0)}) < y.$$

$$\underbrace{\hspace{10em}}_{\text{em } (0,y)}$$

As anotações sob as chaves são “instruções de desenho” que o Bob vai usar pra calcular cada $P(y)$ de cabeça, e pra visualizar o que $P(y)$ “quer dizer”...

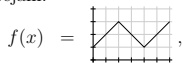
Na próxima página eu fiz as figuras pra $P(3.5)$.

$$\begin{aligned}
 P(3.5) &= \forall x \in \{1, 2, 3\}. \underbrace{f(x)}_{\text{em}(x,0)} < 3.5 \\
 &= \underbrace{(f(1) < 3.5) \wedge (f(2) < 3.5) \wedge (f(3) < 3.5)}_{\text{em}(0,3.5)} \\
 &= \underbrace{\underbrace{(3 < 3.5)}_{\text{em}(1,3)} \wedge \underbrace{(4 < 3.5)}_{\text{em}(2,4)} \wedge \underbrace{(3 < 3.5)}_{\text{em}(3,3)}}_{\text{em}(0,3.5)} \\
 &= \underbrace{\underbrace{\overset{\bullet}{\circ}}_{\text{em}(1,3)} \wedge \underbrace{\overset{\circ}{\circ}}_{\text{em}(2,4)} \wedge \underbrace{\overset{\bullet}{\circ}}_{\text{em}(3,3)}}_{\text{em}(0,3.5)} \\
 &= \underbrace{\overset{\circ}{\circ}}_{\text{em}(0,3.5)}
 \end{aligned}$$



Instruções de desenho: exercício

Sejam:



$$P(y) = \forall x \in \{1, 2, 3\}. f(x) < y,$$

$$Q(y) = \forall x \in \{1, 2, 3\}. f(x) \leq y,$$

$$R(y) = \forall x \in \{1, 2, 3\}. f(x) \geq y,$$

$$S(y) = \forall x \in \{1, 2, 3\}. f(x) > y,$$

$$P'(y) = \forall x \in [3, 5]. f(x) < y,$$

$$Q'(y) = \forall x \in [3, 5]. f(x) \leq y,$$

$$R'(y) = \forall x \in [3, 5]. f(x) \geq y,$$

$$S'(y) = \forall x \in [3, 5]. f(x) > y.$$

Para cada uma das expressões à direita visualize-a, represente-a graficamente numa das cópias do gráfico da $f(x)$ da próxima página, e dê o resultado dela.

Note que aqui eu não estou dando instruções de desenho *explícitas* – você vai ter que escolher como você vai fazer pra visualizar cada expressão.

a) $P(3.5), P(3.0), \dots, P(0.5)$

b) $Q(3.5), Q(3.0), \dots, Q(0.5)$

c) $R(3.5), R(3.0), \dots, R(0.5)$

d) $S(3.5), S(3.0), \dots, S(0.5)$

e) $P'(3.5), P'(3.0), \dots, P'(0.5)$

f) $Q'(3.5), Q'(3.0), \dots, Q'(0.5)$

g) $R'(3.5), R'(3.0), \dots, R'(0.5)$

h) $S'(3.5), S'(3.0), \dots, S'(0.5)$

Nos itens (e) até (f) os seus desenhos vão ter infinitas bolinhas... aliás, você vai ter que fazer desenhos que *finjam* que têm infinitas bolinhas, e nos quais o leitor consiga entender o que você quis representar... veja este slide antigo:

2dT142 “E pra conjuntos infinitos?”



Exercício 9.

A seção “Mais sobre bolinhas” daqui:

<http://angg.twu.net/LATEX/2021-1-C2-somas-2-4.pdf#page=29>

tem dicas sobre como visualizar subconjuntos “definidos por proposições”, como este aqui:

$$\{x \in A \mid P(x)\}$$

A gente primeiro marca cada ponto de A com uma bolinha ou preta ou branca, e depois a gente pega o conjunto das bolinhas pretas e interpreta ele como um outro conjunto – o resultado.

Use isto pra visualizar cada um dos conjuntos à direita e pra encontrar uma descrição mais simples para cada um deles. Geralmente essas “descrições mais simples” vão ser em notação de intervalos.

As funções $P, \dots, S, P', \dots, S'$ são as do exercício 8. O símbolo $\overline{\mathbb{R}}$ denota a “reta real estendida”:

$$\begin{aligned}\overline{\mathbb{R}} &= \mathbb{R} \cup \{-\infty, +\infty\} \\ &= (-\infty, +\infty) \cup \{-\infty, +\infty\} \\ &= [-\infty, +\infty]\end{aligned}$$

Para mais detalhes, veja:

https://en.wikipedia.org/wiki/Extended_real_number_line

a) $\{y \in [0, 3] \mid P(y)\}$

b) $\{y \in [0, 3] \mid Q(y)\}$

c) $\{y \in [0, 3] \mid R(y)\}$

d) $\{y \in [0, 3] \mid S(y)\}$

a') $\{y \in [0, 3] \mid P'(y)\}$

b') $\{y \in [0, 3] \mid Q'(y)\}$

c') $\{y \in [0, 3] \mid R'(y)\}$

d') $\{y \in [0, 3] \mid S'(y)\}$

e) $\{y \in \mathbb{R} \mid P(y)\}$

f) $\{y \in \mathbb{R} \mid Q(y)\}$

g) $\{y \in \mathbb{R} \mid R(y)\}$

h) $\{y \in \mathbb{R} \mid S(y)\}$

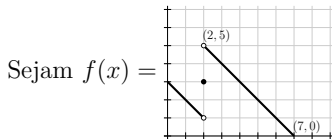
i) $\{y \in \overline{\mathbb{R}} \mid P(y)\}$

j) $\{y \in \overline{\mathbb{R}} \mid Q(y)\}$

k) $\{y \in \overline{\mathbb{R}} \mid R(y)\}$

l) $\{y \in \overline{\mathbb{R}} \mid S(y)\}$

Aproximações por cima e por baixo



e $P = \{1, 3, 4, 5\}$,

e **por enquanto** considere que:

$$\sup(f(B)) = \max_{x \in B} f(x) \quad \text{e}$$

$$\inf(f(B)) = \min_{x \in B} f(x).$$

Represente graficamente:

a) $\overline{\int}_P f(x) dx$

b) $\underline{\int}_P f(x) dx$

c) $\overline{\int}_P f(x) dx$

d) $\overline{\int}_{[1,5]_2} f(x) dx$

e) $\overline{\int}_{[1,5]_4} f(x) dx$

Um jogo colaborativo

...ou: como debugar representações gráficas.

Pense num jogo colaborativo. Os jogadores se chamam P (“proponente”), e O (“oponente”). O P quer encontrar uma representação gráfica pro conjunto A , e à primeira vista o O quer mostrar que o P está errado... mas na verdade o objetivo dos dois é fazer com que o P chegue numa representação gráfica que não tem erro nenhum.

Digamos que

$$A = \{ (x, y) \in \mathbb{R}^2 \mid x \in [1, 2), y \in [1, 2) \}.$$

O P desenha uma representação gráfica **com um nome diferente de A** e “propõe” ela — por exemplo, o P diz isso aqui:



O oponente O diz: “verifica o ponto $(1, 1)$ ”. Os dois verificam o ponto $(1, 1)$ do A' e vêem que o desenho do A' é ambíguo no ponto $(1, 1)$, já que esse é um ponto de fronteira e o P não desenhou ele nem como linha grossa sólida nem com linha tracejada... então a resposta pra pergunta “ $(1, 1) \in A'$?” não é nem **V** nem **F**, é “erro”, e portanto $A \neq A'$, e o P ainda não conseguiu a representação gráfica certa. O oponente O ganha essa rodada, e o P tem que propôr outra representação gráfica.

Aí o P propõe uma outra representação gráfica, **com um outro nome, diferente de A e de A'** . Por exemplo, P propõe isso aqui:



O oponente O diz: “verifica o ponto $(0, 0)$ ”. Os dois verificam, e vêem que:

$$(0, 0) \notin A, \quad (0, 0) \in A''$$

E portanto $A \neq A''$, e o P ainda não conseguiu a representação gráfica certa. O oponente O ganha mais essa rodada.

Quando o P propõe um desenho que o O não consegue mostrar que está errado o P ganha a rodada.

Até vocês terem prática vocês vão jogar como o P , vão me mostrar as representações gráficas de vocês, e eu vou jogar como o O . Quando vocês tiverem mais prática vocês vão conseguir chutar representações gráficas (como o jogador P) e testá-las (fazendo o papel do jogador O vocês mesmos).

Exercício 2.

Represente graficamente os seguintes conjuntos:

$$A = \{(x, y) \in \mathbb{R}^2 \mid x \in [1, 2), y \in [1, 2)\}$$

$$B = \{(x, 2x) \mid x \in [1, 2)\}$$

$$C = \{(x, y) \in \mathbb{R}^2 \mid 0 \leq x \wedge x + y < 2\}$$

Dica: todos eles vão dar subconjuntos do plano feitos de infinitos pontos, e você vai ter que adaptar as convenções que usamos pra desenhar intervalos pra desenhar *regiões*.

Use bolinhas cheias pra indicar “este ponto pertence ao conjunto”, bolinhas ocas pra indicar “este ponto não pertence ao conjunto”, linhas grossas contínuas pra indicar “esse trecho da fronteira pertence ao conjunto” e linhas tracejadas pra indicar “esse trecho da fronteira não pertence ao conjunto”. Por exemplo:

